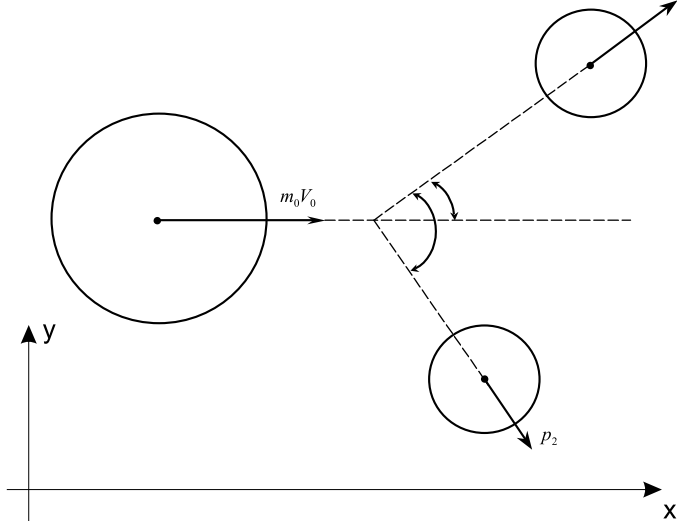


# Щербаков Иван Сергеевич, ИУ8-21, 26 вариант

## Задача 1-3

### Условие

Нерелятивистская частица с внутренней энергией  $E_0$  и массой  $m_0$ , летящая со скоростью  $\vec{V}_0$  распадается на две нерелятивистские частицы, скорости которых  $\vec{V}_1$  и  $\vec{V}_2$ , массы  $m_1$  и  $m_2$ . Импульсы  $\vec{p}_1$  и  $\vec{p}_2$ , кинетические энергии  $E_1$  и  $E_2$ . При этом часть внутренней энергии  $E_0$  исходной частицы в количестве  $\eta E_0$  расходуется на увеличение кинетической энергии образовавшихся частиц.  $\varphi$  - Угол разлета частиц,  $\theta$  - угол отклонения первой частицы от первоначального направления полета исходной частицы.



$$\begin{aligned} m_0 &= 10^{-2} \text{кг}, \\ V_0 &= 20 \text{м/с}, \\ \varphi &= \frac{\pi}{2}, \\ m_1 &= \frac{2}{3} m, \\ m_2 &= \frac{1}{3} m, \\ p_2 &= \frac{m_0 V_0}{2} \end{aligned}$$

Необходимо определить следующие величины:

$$\theta, V_1, p_1, E_1, E_2, \eta E_0$$

Так как  $p_2 = \frac{m_0 V_0}{2}$ , а  $m_2 = \frac{m}{3}$ , то  $V_2 = \frac{p_2}{m_2} = \frac{3V_0}{2}$

По закону сохранения импульса:

$$m_0 \vec{V}_0 = m_1 \vec{V}_1 + m_2 \vec{V}_2.$$

По закону сохранения энергии:

$$\frac{m_0 V_0^2}{2} + \eta E_0 = \frac{m_1 V_1^2}{2} + \frac{m_2 V_2^2}{2}$$

Рассмотрим эти соотношения в проекциях на оси  $x$  и  $y$ . Обозначим  $\beta = \varphi - \theta$ . Тогда

$$V_{0x} = V_0, V_{0y} = 0, V_{1x} = V_1 \cos \theta, V_{1y} = V_1 \sin \theta, V_{2x} = V_2 \cos \beta, V_{2y} = -V_2 \sin \beta.$$

Так как  $\varphi = \theta + \beta = \frac{\pi}{2}$ , то  $\text{tg } \theta = \text{ctg } \beta$ . Получим систему уравнений:

$$\left\{ \begin{array}{l} V_2 = \frac{9V_0}{4}, \\ m_0 V_0 = m_1 V_{1x} + m_2 V_{2x}, \\ m_1 V_{1y} = -m_2 V_{2y}, \\ m_0 V_0^2 + 2\eta E_0 = m_1 (V_{1x}^2 + V_{1y}^2) + m_2 (V_{2x}^2 + V_{2y}^2), \\ V_{2x}^2 + V_{2y}^2 = \frac{9V_0^2}{4}, \\ \frac{V_{1x}}{V_{1y}} = -\frac{V_{2x}}{V_{2y}}. \end{array} \right. \Rightarrow \left\{ \begin{array}{l} V_2 = \frac{9V_0}{4}, \\ V_{1x} = \frac{m_0^2 V_0^2 - m_2^2 V_2^2}{m_0 V_0 m_1}, \\ V_{1y} = \frac{m_2 V_2 (m_0^2 V_0^2 - m_2^2 V_2^2)}{(m_0 m_1 V_0) \sqrt{m_0^2 V_0^2 - m_2^2 V_2^2}}, \\ V_{2x} = \frac{m_2 V_2}{m_0 V_0}, \\ V_{2y} = -\frac{V_2 \sqrt{m_0^2 V_0^2 - m_2^2 V_2^2}}{m_0 V_0}, \\ \eta E_0 = \frac{m_1 m_2 V_2^2 + m_0^2 V_0^2 - m_1 m_0 V_0^2 - m_2^2 V_2^2}{2m_1}. \end{array} \right.$$

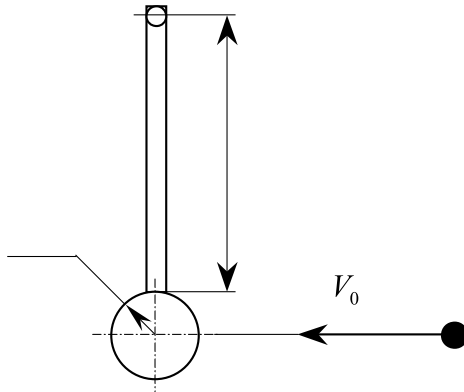
Найдем искомые величины:

$$\left\{ \begin{array}{l} V_2 = \frac{9V_0}{4} = 30 \text{м/с}, \\ \theta = \text{arctg} \left( \frac{V_{1y}}{V_{1x}} \right) = \text{arctg} \left( \frac{m_2 v_2}{\sqrt{m_0^2 V_0^2 - m_2^2 V_2^2}} \right) = \frac{\pi}{6}, \\ V_1 = \sqrt{V_{1x}^2 + V_{1y}^2} = \sqrt{\left( \frac{m_0^2 V_0^2 - m_2^2 V_2^2}{m_0 V_0 m_1} \right)^2 + \left( \frac{m_2 V_2 (m_0^2 V_0^2 - m_2^2 V_2^2)}{(m_0 m_1 V_0) \sqrt{m_0^2 V_0^2 - m_2^2 V_2^2}} \right)^2} = 15\sqrt{3} \approx 25.981 \text{м/с}, \\ p_1 = m_1 V_1 = \frac{\sqrt{3}}{100} \approx 0.017 \frac{\text{кг} \cdot \text{м}}{\text{с}}, \\ E_1 = \frac{m_1 V_1^2}{2} = \frac{9}{40} \approx 0.225 \text{Дж}, \\ E_2 = \frac{m_2 (V_{2x}^2 + V_{2y}^2)}{2} = \frac{m_2 \left( \left( \frac{m_2 V_2}{m_0 V_0} \right)^2 + \left( \frac{V_2 \sqrt{m_0^2 V_0^2 - m_2^2 V_2^2}}{m_0 V_0} \right)^2 \right)}{2} = 0.3 \text{Дж}, \\ \eta E_0 = \frac{m_1 m_2 V_2^2 + m_0^2 V_0^2 - m_1 m_0 V_0^2 - m_2^2 V_2^2}{2m_1} = \frac{7}{40} = 0.175 \text{Дж}. \end{array} \right.$$

# Шербаков Иван Сергеевич, ИУ8-21, 26 вариант

## Задача 2-3

### Условие



Физический маятник, состоящий из шара радиусом  $R$  и массой  $M$ , жестко прикрепленного к тонкому стержню длиной  $4R$  и массой  $M$ , подвешен к горизонтальной оси  $O$ , проходящей через конец стержня перпендикулярно плоскости рисунка. Маятник может свободно без трения вращаться вокруг оси  $O$ . Шарик массы  $m$  движется горизонтально в плоскости рисунка со скоростью  $\vec{V}_0$  вдоль прямо, проходящей через центр шара, и ударяет в шар. При этом взаимодействие шарика с маятником происходит в виде абсолютно неупругого удара.

$$\begin{aligned} R &= 3\text{см}, \\ M &= 1\text{кг}, \\ m &= 0.1\text{кг}, \\ V_0 &= 0.5V_{0m}. \end{aligned}$$

Вычислить:

$$\varphi_m; \quad V_{0m}; \quad \Delta E.$$

Момент инерции системы с шариком (шарик считается материальной точкой):

$$I = I + 25mR^2 = \frac{401}{15}MR^2 + 25mR^2.$$

За нулевой уровень потенциальной энергии выберем уровень, на котором находится ось вращения. Найдем энергию системы в начальном состоянии, состоянии максимального подъема и состоянии отклонения на угол  $\varphi$ :

$$\begin{cases} E_{п0} = -2MgR - 5MgR - 5mgr = -(7M + 5m)gR. \\ E_{п1} = 2MgR + 5MgR + 5mgr = (7M + 5m)gR. \\ E_{п\varphi} = (-2MgR - 5MgR - 5mgr) \cos \varphi = -(7M + 5m)gR \cos \varphi \end{cases}$$

Кинетическая энергия системы сразу после столкновения:  $E_{к1} = \frac{I\omega_0^2}{2}$

Найдем  $\omega_m$ . По закону сохранения энергии:

$$\frac{I\omega_m^2}{2} - (7M + 5m)gR = (7M + 5m)gR \Rightarrow \omega_m = \sqrt{\frac{4(7M + 5m)gR}{I}}.$$

При соударении выполняется закон сохранения момента импульса:

$$I\omega_0 = 5mV_0R. \Rightarrow \omega_0 = \frac{5mV_0R}{I}; \quad V_{0m} = \frac{I\omega_m}{5mR} = \sqrt{\frac{4Ig(7M + 5m)}{25m^2R}}; \quad \omega_0 = \sqrt{\frac{(7M + 5m)gR}{I}}.$$

Запишем закон сохранения энергии для рассматриваемого случая:

$$\frac{mV_0^2}{2} + \Delta E = \frac{I\omega_0^2}{2} \Rightarrow \Delta E = \frac{mV_0^2}{2} - \frac{I\omega_0^2}{2} = \frac{mV_0^2}{2} - \frac{25m^2V_0^2R^2}{2I}$$

Найдем  $\varphi_m$ :

$$\frac{I\omega_0^2}{2} - (7M + 5m)gR = -(7M + 5m)gR \cos \varphi_m \Rightarrow \varphi_m = \arccos \left( 1 - \frac{I\omega_0^2}{2gR(7M + 5m)} \right).$$

Запишем полученные результаты:

$$\begin{cases} I = \frac{401}{15}MR^2 + 25mR^2, \\ V_{0m} = \sqrt{\frac{4Ig(7M+5m)}{25m^2R}} \approx 32.131\text{м/с}, \\ \Delta E = \frac{mV_0^2}{2} - \frac{25m^2V_0^2R^2}{2I} \approx 11.801\text{Дж}, \\ \varphi_m = \arccos \left( 1 - \frac{I\omega_0^2}{2gR(7M+5m)} \right) = \arccos \left( \frac{1}{2} \right) = \frac{\pi}{3}. \end{cases}$$

# Шербаков Иван Сергеевич, ИУ8-21, 26 вариант

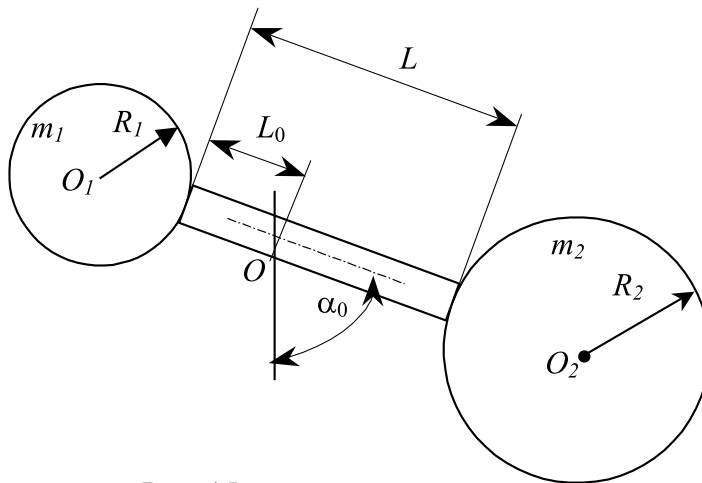
## Задача 3-3

### Условие

На рисунке представлен физический маятник, состоящий из двух шаров радиусами  $R_1$  и  $R_2$  и массами соответственно  $m_1$  и  $m_2$ . Шары жестко скреплены с помощью стержня длиной  $L$  и массой  $m_1$ . Через точку  $O$  стержня проходит горизонтальная ось вращения, расположенная на расстоянии  $l_0$  от верхнего конца стержня. Маятник отклоняют от положения равновесия на угол  $\alpha_0$ , затем в начальный момент времени  $t = 0$  отпускают. В результате маятник начинает совершать свободные незатухающие колебания. Коэффициент сопротивления считать равным нулю.

Для данной колебательной системы необходимо:

- 1) Вывести дифференциальное уравнение свободных незатухающих колебаний.
- 2) Определить круговую частоту  $\omega_0$  и период  $T_0$  свободных незатухающих колебаний.
- 3) Определить, используя начальные условия задачи и исходные данные, начальные амплитуду  $A_0$  и фазу  $\varphi_0$  колебаний.
- 4) Написать с учетом найденных значений уравнение колебаний.



$$\begin{aligned}
 r &= 0, \\
 m_1 &= 2.1 \text{ кг}, \\
 m_2 &= 4.1 \text{ кг}, \\
 R_1 &= 0.04 \text{ м}, \\
 R_2 &= 0.05 \text{ м}, \\
 L &= 1, 2 \text{ м}, \\
 l_0 &= 0.4 \text{ м}, \\
 \alpha &= \frac{\pi}{9}.
 \end{aligned}$$

Рис. 15

Вычислим момент инерции системы относительно оси  $O$ :

$$I = \frac{2}{5}m_1R_1^2 + m_1(R_1 + l_0)^2 + \frac{1}{3}m_1L^2 + m_1l_0^2 + \frac{2}{5}m_2R_2^2 + m_2(R_2 + L - l_0)^2$$

Вычислим расстояние  $x_0$  от верхнего конца стержня до центра масс системы:

$$-m_1(R_1 + x_0) + m_2(R_2 + L - x_0) + m_1\left(\frac{L}{2} - x_0\right) = 0 \Rightarrow x_0 = \frac{2m_2r_2 + 2m_2L + m_1L - 2m_1r_1}{2(2m_1 + m_2)}$$

Последовательно вычислим искомые величины:

- 1) В процессе колебаний на систему действует сила тяжести. Ее момент равен  $M = -g(2m_1 + m_2)(x_0 - l_0)\alpha$ . Тогда:

$$M = I\epsilon \Rightarrow \ddot{\alpha} + \frac{g(2m_1 + m_2)(x_0 - l_0)}{I}\alpha = 0.$$

Получено дифференциальное уравнение свободных незатухающих колебаний.

- 2)  $\omega_0 = \sqrt{\frac{g(2m_1 + m_2)(x_0 - l_0)}{I}} \approx 2.249 \text{ с}^{-1}$ ,  $T_0 = \frac{2\pi}{\omega_0} \approx 2.524 \text{ с}$ , где  $x_0 = \frac{2m_2r_2 + 2m_2L + m_1L - 2m_1r_1}{2(2m_1 + m_2)}$ ,  $I = \frac{2}{5}m_1R_1^2 + m_1(R_1 + l_0)^2 + \frac{1}{3}m_1L^2 + m_1l_0^2 + \frac{2}{5}m_2R_2^2 + m_2(R_2 + L - l_0)^2$ .
- 3)  $A_0 = \alpha_0 = \frac{\pi}{9}$ ,  $\varphi = 0$ .
- 4)  $\alpha = \alpha_0 \cos(\omega_0 t)$ .

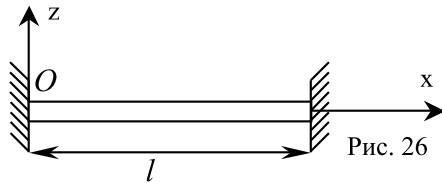
# Шербаков Иван Сергеевич, ИУ8-21, 26 вариант

## Задача 4-4

### Условие

Для струны длиной  $l$ , натянутой с силой  $\vec{F}$  и закрепленной, как указано на рисунке, необходимо:

- 1) определить частоту колебаний и длину волны  $i$ -ой гармоники стоячей волны,
- 2) для этой гармоники нарисовать вдоль стержня качественные картины стоячих волн амплитуд смещений и давлений.



Материал: сталь,  
 $L = 1.2\text{м}$ ,  
 $d = 0.3\text{мм}$ ,  
 $\rho = 7.8 \cdot 10^3 \text{кг/м}^3$ ,  
 $F = 5\text{Н}$ ,  
 $i = 4$ .

Стоячая волна будет образовываться при наложении двух противоположных волн  $\xi_1 = A \cos(\omega t - kx + \varphi_1)$  и  $\xi_2 = A \cos(\omega t + kx + \varphi_2)$ . Она будет иметь вид:

$$\xi = A \cos(\omega t + \tilde{\varphi}_1) \cos(kx + \tilde{\varphi}_2)$$

На длину стоячей волны накладывается ограничение:  $\lambda = \frac{2L}{i}$ ,  $i \in \mathbb{N}$  Скорость распространения волн в струне:  $c = \sqrt{\frac{F}{\tau}}$ , где  $\tau = \rho S$ ,  $S = \frac{\pi d^2}{4}$ . Тогда,

$$c = \sqrt{\frac{4F}{\pi d^2 \rho}}$$

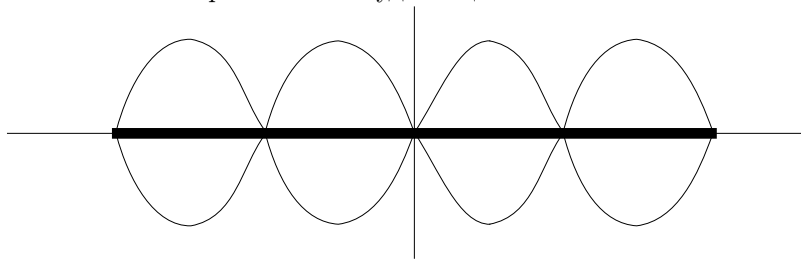
Найдем последовательно искомые величины:

- 1) Найдем ограничение, накладываемое на частоту волн, способных образовывать стоячие волны:

$$\omega = \frac{2\pi c}{\lambda} \Rightarrow \omega = \frac{\pi c i}{L}, \quad i \in \mathbb{N}$$

Частота  $\omega_0 = \frac{\pi c}{L}$  является основной, частоты при  $i > 1$  относятся к обертонам. Частота  $i$ -ой гармоники:  $\omega_i = \frac{\pi c i}{L} \approx 9.972 \cdot 10^3 \text{Гц}$ , длина волны:  $\lambda_i = \frac{2L}{i} = 0.6\text{м}$ .

- 2) Качественная картина амплитуд смещений:



- 3) Качественная картина амплитуд давлений:

